

座席 番号				
受験 番号				

2022年度 2月1日 入学試験 社会問題

社会の注意 答えはすべて解答用紙に書きなさい。

【 試験についての注意事項 】

- 机の上に出してよいものは、次の3つです。それ以外のものはカバンにしまってください。
 - ① 座席番号シール と 受験票 (机の左上におきます)
 - ② えんぴつ数本 (シャープペンシルも可・色ペンやマーカー、定規の使用は不可)
 - ③ 消しゴム
- 次のものを持ってきた場合は、カバンにしまってください。また、休けい時間中も使用してはいけません。
 - ① 腕時計・置き時計など (音が鳴らないようにしてください)
 - ② 携帯電話・スマートフォン (電源を切ってください)
 - ③ 腕時計型の情報端末 (Apple Watch など)※ 許可なく携帯電話・スマートフォンや腕時計型の情報端末を使用した場合、不正行為とみなすことがあります。
- 机の中には、何も入れないでください。
- チャイムが鳴ったら、次のことを記入してから始めてください。

問題用紙 → 座席番号 と 受験番号

解答用紙 → 座席番号 と 受験番号 と 氏名
- 問題についての質問は、いっさいできません。
- 気分が悪くなったら、すぐに申し出てください。
- 物を落としたら、自分でひろわず、手をあげてください。

1 次の文章を読み、以下の問いに答えなさい。

①国際連合は、世界の平和と安全を守り、人々の暮らしをより良いものにするために、発足しました。国際連合には、目的に応じた多くの国連機関があります。その1つである②国際連合世界食糧計画(WFP)は、2020年のノーベル平和賞を受賞しました。この機関は、③飢餓と貧困をなくすことを使命とし、災害や紛争時の緊急支援、栄養状態の改善などを中心に、食糧支援活動を行っています。

他には、経済社会理事会が設置する専門機関の1つに、国際連合教育科学文化機関(UNESCO、以下ユネスコ)があります。ユネスコの目的は教育・科学・文化の面で国どうしが協力して、平和を守ることです。

ユネスコの事業の1つに「ユネスコ世界ジオパーク」というものがあります。2015年から正式に始まったこの事業は、国際的に価値のある④地質遺産を保護し、自然環境や地域の文化への理解を深め、科学研究や教育、地域振興等に活用することや、自然と人間の共生などをはかっていくことを目的としています。2021年4月時点で、169地域が認定されており、日本には⑤糸魚川や室戸など9つの地域があります。

同じく1972年に採択された⑥世界遺産条約から始まった世界遺産事業については、世界遺産を人類共通の遺産として保護、保全していくために、国際的な協力、及び援助の体制を確立することが目的とされています。日本では2019年の「⑦百舌鳥・古市古墳群 - 古代日本の墳墓群 -」など多数が世界文化遺産に登録されています。

国際連合は「持続可能な開発」についても指導的な役割を果たしています。最近、⑧SDGsという言葉が聞くことが多くなりました。SDGsとは、2015年9月の国連サミットで採択された、貧困や紛争、環境問題などの課題解決のために達成すべき具体的な目標です。現在、人類はこれまでになかったような多くの課題に直面しており、このままでは安定してこの世界で暮らし続けることができなくなってしまうといわれています。さまざまな社会の課題とSDGsのつながりを知り、自分はどうのように目標達成に貢献できるかを、ぜひ考えてみてください。

問題は次のページに続きます。

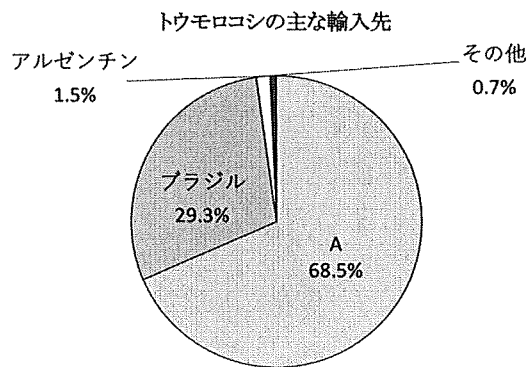
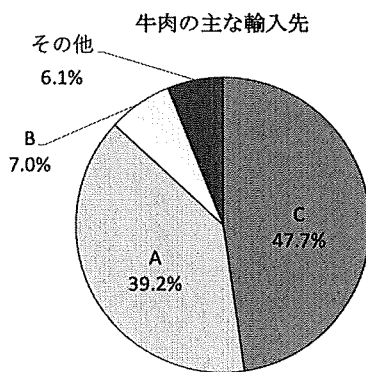
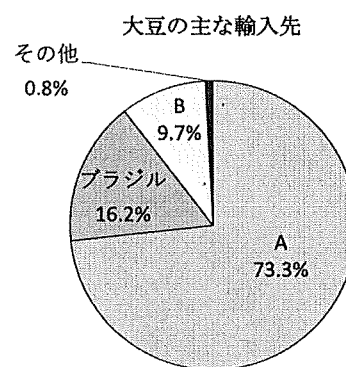
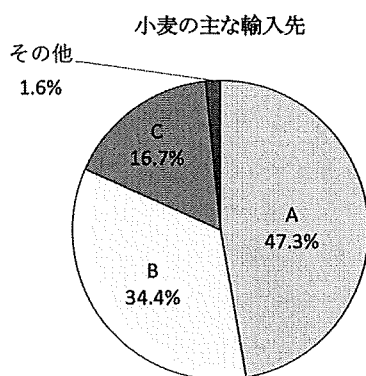
問1 下線部①に日本が加盟した年を、次の中から1つ選び、記号で答えなさい。

- ア. 1939年 イ. 1946年 ウ. 1951年 エ. 1956年

問2 下線部②に関連して、日本の食料自給率は、主要先進国の中では低く、多くの食料を輸入に頼っています。以下の問いに答えなさい。

(1) 次のグラフは、日本の食料の輸入先を表したものです。グラフ中のA～Cのうち、AとBに入る国の組み合わせとして、正しいものを次の中から1つ選び、記号で答えなさい。

- ア. A—アメリカ B—カナダ イ. A—アメリカ B—オーストラリア
 ウ. A—カナダ B—アメリカ エ. A—カナダ B—オーストラリア



(『日本のすがた 2021』より作成)

(2) 日本での自給率が最も低い農産物として、正しいものを次の中から1つ選び、記号で答えなさい。

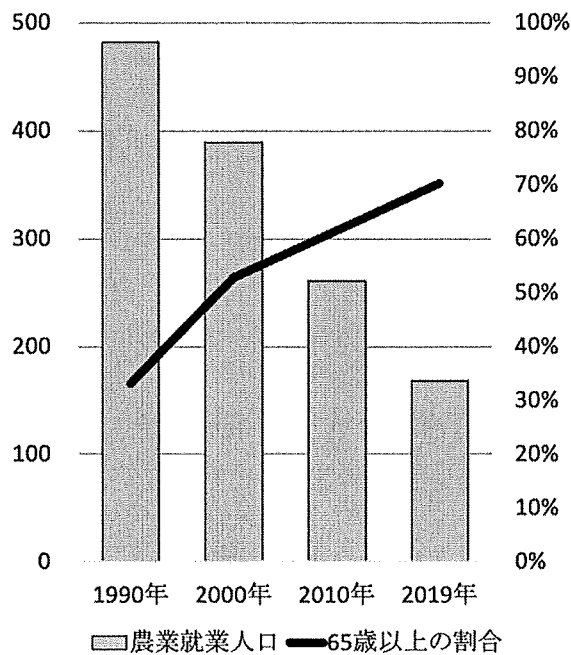
- ア. 小麦 イ. 大豆 ウ. 肉類 エ. たまご

(3) 日本の食料自給率低下の背景を説明した文章として、誤っているものを次の中から1つ選び、記号で答えなさい。

- ア. 日本人の食生活が大きく変化し、国内で自給可能な米の消費が減少したことが背景にあります。
- イ. 国内では生産が難しい飼料穀物（トウモロコシなど）や油脂類の需要が増加したためです。
- ウ. 輸送技術が発達して、農産物を新鮮なまま輸入できるようになったことが関係しています。
- エ. 大規模自然災害や異常気象に備えて、国や家庭で食料などの備蓄を進めていることが影響しています。

(4) 次のグラフの数値から、読み取れることを書きなさい。また、そこから考えられる日本の農業の課題を述べなさい。

農業就業人口とその中の高齢者の割合



※人口の単位は万人 (『日本のすがた 2021』より作成)

問3 下線部③について、日本でも貧困問題は深刻で、厚生労働省の2019年国民生活基礎調査によると、17歳以下の子どもの貧困率は2018年時点では13.5%となっています。これは7人に1人の子どもが貧困世帯で暮らしていることをあらわしています。これに関連して、以下の問いに答えなさい。

(1) 食品企業の製造工程で発生する規格外品などを引き取り、福祉施設や貧困世帯へ無料で提供するなどの支援を行う活動を何といいますか。

(2) 日本では、年間約 2550 万トン (2017 年度環境省公表) の食品廃棄物等が発生しています。まだ十分食べられるにもかかわらず廃棄されている食品や、このような食品を廃棄することを何といいますか、漢字とカタカナを合わせて 4 文字で答えなさい。

問 4 下線部④に関連して、2020 年 1 月に、国際地質科学連合により今まで名前のなかった約 77 万 4 千年前から 12 万 9 千年前までの時代の地質年代が、ラテン語で「千葉の時代」を意味する言葉に決まりました。この言葉を答えなさい。

問 5 下線部⑤に関連して、新潟県糸魚川市と静岡県静岡市を結ぶ線を西端とする、日本列島の中央部を南北に走る地溝帯を何といいますか。

問 6 次の A～G は、下線部⑥がある都道府県についての文章です。これらに関する以下の問いに答えなさい。

- A 環濠集落で有名な (1) 遺跡は、国の特別史跡に指定されています。大型建物や物見やぐらがあり、首のない遺体が埋葬されたかめ棺も発掘されています。
- B 平氏は中国の (2) との貿易で大きな利益をあげました。平清盛は瀬戸内海の航路を整え、航海の守り神として (3) 神社をあつく信仰しました。
- C (4) 人に続き、スペイン人とも貿易を行うようになりました。彼らとの貿易は南蛮貿易と呼ばれ、長崎や平戸で行われました。
- D (5) 王国は、首里城を王城とし、中国・朝鮮・日本や東南アジアとの中継貿易で栄えていましたが、薩摩藩によって征服されました。
- E 奥州藤原氏は金や馬などの産物と北方との交易によって栄え、浄土へのあこがれから (6) 寺金色堂を建てました。
- F 焼津のマグロ漁船 (7) はビキニ環礁北東の公海上で、アメリカの水爆実験に遭遇し、乗組員全員が放射能を帯びた「死の灰」を浴びました。
- G 蝦夷地は北海道と改められ、開拓使がおかれて開拓事業が進められました。開拓の中心となったのは兵士の役割も担った (8) でした。

(1) 文中の (1) ～ (8) に当てはまる言葉を答えなさい。

(2) A～G を年代の古い順に並べ替えた時、4 番目と 6 番目になるものをそれぞれ記号で答えなさい。

問7 下線部⑦について、次の記事は、2019年5月14日の朝日新聞（朝刊）の一部です。これを読んで以下の問いに答えなさい。

（前略）登録を目指す動きは2005年、百舌鳥古墳群がある堺市の提唱からスタート。翌06年の④政令指定都市への移行を控え、古墳群をまちの「顔」にしていきたいという思いがあった。

これに呼応し、古市古墳群のある羽曳野、藤井寺両市でも世界遺産登録への機運が拡大。近畿2府4県で唯一、世界遺産のない大阪府が音頭をとり、07年に共同で国内候補地リスト入りを⑤文化庁に申請した。

文化庁は、他の世界遺産と比べて、古墳群の周囲は都市化が進み、景観保全に課題が多いことを懸念し、対応を要請。地元自治体はCで、周囲の建物の高さや屋外広告物などの規制を導入する方針を示したことで、10年に暫定リスト入りを果たした。

（後略）

(1) 下線部④ではない都市名を次の中から1つ選び、記号で答えなさい。

ア. 金沢市 イ. 静岡市 ウ. 岡山市 エ. 仙台市

(2) 下線部⑤に関連して、文化庁は日本の伝統文化を海外に発信しています。以下の文章で説明される伝統芸能を答えなさい。

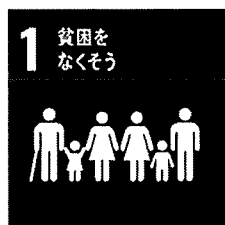
「社会を風刺した内容が多く、庶民の生活を題材にした、当時の話し言葉を使う劇です。室町時代に発達しました。」

(3) Cには地方公共団体が制定する法をさす言葉が入ります。この言葉を答えなさい。

問8 下線部⑧に関連して、以下に紹介するのは、中学生が書いたSDGs達成のための行動宣言です。この行動宣言はSDGsのどの目標につながっていますか。最も適当なものを次のアイコンの中から1つ選び、記号で答えなさい。

「環境問題が今より深刻になっていくと思うので、環境に優しい生活をする。紙素材でできているパッケージの商品を購入したり、買い物にはエコバッグを持っていったりする。プラスチック製のストローやカップなどの利用頻度を低くして、プラスチックごみを減らす。」

ア.



イ.



ウ.



エ.



2 次の文章を読み、以下の問いに答えなさい。

町にはさまざまな歴史があります。例えば上野駅周辺もそうです。

J R 上野駅公園口を出ると、すぐに上野恩賜公園があり、その中には動物園や多くの美術館、博物館があります。上野が現在のような誰もが知っている場所になったのは、江戸時代からです。江戸幕府の初代将軍徳川家康・2代将軍徳川秀忠の時代に①芝の増上寺と上野の寛永寺は、将軍家に深いかかわりのある寺院となりました。

寛永寺のある上野の山は、天海という僧の提案で、②比叡山近辺の名所にならって整えられ、江戸の庶民が気軽に参りできるようになっていきました。③京都の清水寺を模した清水観音堂が建立され、花やモミジが植えられて、上野は江戸の行楽地となりました。

江戸幕府最後の将軍徳川慶喜が京都の二条城で（ 1 ）した後、王政復古の大号令が出され、新政府は徳川慶喜に対して、領地などを引き渡すように要求しました。しかし、旧幕府軍はこれに抵抗して戦いました。その舞台の1つとなったのが上野です。旧幕府側の④彰義隊と新政府軍の激しい戦いの結果、上野は焼け野原となりました。

明治時代になると、寛永寺の敷地の大部分は、上野恩賜公園となりました。上野恩賜公園では、岩倉使節団の一員として欧米を視察した（ 2 ）が第1回内国勸業博覧会を開催し、上野は次第に日本の近代化を象徴する場所へと変わっていきました。上野動物園も1882（明治15）年に開園し、最初は身近な動物の展示から始まって、キリンやゾウなどの珍しい動物が増えていきました。

⑤（ 2 ）と故郷を同じくする西郷隆盛の銅像は、1898（明治31）年にできました。西南戦争の中心人物であった西郷隆盛は、1889（明治22）年に に伴う大赦（※1）で復権し、彼の銅像を立てようとする活動が起こったからです。西郷隆盛像の制作を依頼されたのは、同じく上野恩賜公園内にあった東京美術学校に勤務していた高村光雲でした。

明治時代には、動物園のほかにも、公園内に博物館や競馬場、図書館などが次々とつくられ、軽気球（※2）の実演も行なわれました。⑥明治時代の大きな2つの対外戦争の時には、戦勝祝賀の催しが上野で行われました。一方、⑦歌川広重の絵にもある有名な「月の松」と呼ばれた老樹が、明治の中頃に枯れました。明治の末になると、上野の山の多くの老樹が枯れて問題となり、これにより、近隣の工場による⑧環境への影響が注目され始めました。

1923（大正12）年には、関東大震災に見舞われ、上野恩賜公園は多くの人々の避難所となりました。その時、西郷隆盛像は尋ね人を探す貼り紙でおおわれました。

それから約20年後、第二次世界大戦中の1945（昭和20）年には⑨東京大空襲で、10万人以上が一夜にして亡くなりました。上野恩賜公園には多くの人が逃げ込み、また、亡くなった人達の仮火葬場としても使われました。

戦後は物資や食料が不足し、人々は配給だけでは暮らしていくことが困難でした。そのため食料や生活用品が取引される（ 3 ）が上野駅の前で開かれました。これが、今も多くの商店が軒を連ねるアメヤ横丁の始まりです。

1950年代半ばから1970年代前半の⑩高度経済成長期には、上野駅は⑪東北地方などから集

団就職で東京にやってくる人々の玄関口として賑わいました。また、この頃、国立西洋美術館、東京文化会館、上野の森美術館が開館し、芸術のまちとしてのイメージも定着します。1972（昭和47）年に（ 4 ）声明が出され、⑫日本と中国の国交が正常化されたことを背景に、パンダが中国から贈られ、上野動物園で飼育されました。

新型コロナウイルスの影響が出る以前の上野は⑬外国人観光客も多く、⑭さまざまな宗教のきまりに対応する食べ物やサービスを提供する施設も増えました。

時代とともに町の姿は変わっていきます。自分の住んでいる町の歴史も調べてみると、今まで知らなかった魅力を再発見できるでしょう。

※1 大赦 皇室・国家にめでたい事があった時、ある範囲の罪に対し刑を許すこと。


※2 軽気球 気球の古い呼び名。

問1 文中の（ 1 ）～（ 4 ）に当てはまる言葉を答えなさい。

問題は次のページに続きます。


問2 次の地図1・2は、下線部①付近を記した新旧の地図です。これらの地図を見比べ、次のページの問いに答えなさい。

地図1 1884(明治17)年



（『江戸東京大地図 地図にみる江戸東京の今昔』^{へいぼんしゃ}（平凡社）1993年発行より作成）

地図2 2021（令和3）年



（国土地理院2万5千分1地形図「東京西南部」より作成）

※印刷したものは実際の縮尺とは異なります

- (1) 地図2中の○で囲まれた地図記号は何を示していますか。
- (2) 新旧の地図の説明として、誤っているものを次の中から1つ選び、記号で答えなさい。
- ア. 古い地図で線路が通っている場所は、現在国道が通っています。
 - イ. 海軍兵器局のあった場所には、現在病院や学校があります。
 - ウ. 東照宮のあった場所には、新しい地図では神社の地図記号があります。
 - エ. 月窓院や恭敬院のあった区画には、現在区役所があります。

問3 下線部②について、次の問いに答えなさい。

(1) この山は2つの府県にまたがっています。この2つの府県のいずれかの説明として、正しいものを次の中から1つ選び、記号で答えなさい。

ア. 海に面しておらず、南部には紀伊山地があり、杉の産地として有名です。

イ. 伊勢神宮があり、昔から多くの人がお参りに訪れています。

ウ. 淀川の水源となる湖があり、伝統工芸品として信楽焼が知られています。

エ. 有田川流域などで栽培されるみかんの生産量は、日本一です。

(2) 最澄がこの山に延暦寺を建立した年代と最も近い出来事として、正しいものを次の中から1つ選び、記号で答えなさい。

ア. 鑑真が唐招提寺を建立しました。

イ. 空海が金剛峯寺を建立しました。

ウ. 空也が浄土教を広めました。

エ. 一遍が踊念仏を広めました。

問4 下線部③周辺の伝統工芸品として、正しいものを次の中から1つ選び、記号で答えなさい。

ア.

イ.

ウ.

エ.



問5 下線部④の頭取(隊長)は、2024年度から1万円札の肖像となる人物のいどこでした。1万円札の肖像に選ばれた人物の名前を答えなさい。

問6 下線部⑤に関連して、(2) や西郷隆盛の故郷にあたる県で、生産量が多いものとして、誤っているものを次の中から1つ選び、記号で答えなさい。

ア. ウナギ イ. 牡蠣 ウ. 豚肉 エ. 茶

問7 文中 A に入る出来事として、正しいものを次の中から1つ選び、記号で答えなさい。

ア. 帝国議会の開設

イ. 関税自主権の回復

ウ. 民選議院設立建白書の提出

エ. 大日本帝国憲法の発布

問8 下線部⑥について、この2つの戦争を次の中から選び、年代の古い順に答えなさい。

ア. 太平洋戦争

イ. 第一次世界大戦


ウ. 日清戦争

エ. 日中戦争


オ. 日露戦争

問9 下線部⑦の作品として、正しいものを次の中から1つ選び、記号で答えなさい。


ア.




イ.



ウ.



エ.



問10 下線部⑧に関連して、現在の環境問題への取り組みは、世界規模になっています。次の記事は、2021年11月1日の毎日小学生新聞の一部です。これを読んで「」に当てはまる言葉を答えなさい。

こくれんきこうへんどうわくぐみじょうやく ていやくこく コップ
国連気候変動枠組条約第26回締約国会議（COP26）が10月31日から11月12日にかけて、イギリス・グラスゴーで開かれます。昨年からは地球温暖化対策の国際的な枠組「」がスタートして初めて開かれる会議です。（後略）

問11 下線部⑨が起こった日として、正しいものを次の中から1つ選び、記号で答えなさい。

ア. 3月10日 イ. 8月6日 ウ. 9月1日 エ. 10月10日 オ. 12月8日

問12 下線部⑩が起こった出来事として、正しいものを次の中から1つ選び、記号で答えなさい。

- ア. アジアで最初のオリンピックが東京で開催されました。
- イ. 朝鮮戦争が始まり、特需景気と呼ばれる好景気となりました。
- ウ. サンフランシスコ平和条約を結び、翌年日本は独立を回復しました。
- エ. 農村の民主化をすすめるため、農地改革が行われました。

問 13 下線部⑩では 2011 年 3 月に東日本大震災が^{ひがしにほんだいしんさい}発生し、原子力発電に関して考える機会を得ました。世界の原子力発電について、以下の表の A～C に入る国の組み合わせとして、正しいものを次の中から 1 つ選び、記号で答えなさい。

世界の原子力発電開発の現状 (2021 年 1 月現在 : 2020 年実績値)

国	運転中 (運転可能炉)		建設・計画中		シェア率※ (%)
	出力(万 kW)	基数	出力(万 kW)	基数	
A	6404.0	56	165.0	1	70.6
中国	4987.8	48	4737.3	45	4.9
^{かんこく} 韓国	2341.6	24	560.0	4	29.6
B	995.6 (3308.3)	10 (33)	1572.3	11	5.1
イギリス	1036.2	15	678.0	4	14.5
C	854.5	6	0	0	11.3

(一般社団法人日本原子力産業協会ウェブサイトより作成)

※国内の発電量における原子力発電の割合

- ア. A—ドイツ B—フランス C—日本
 イ. A—ドイツ B—日本 C—フランス
 ウ. A—日本 B—ドイツ C—フランス
 エ. A—日本 B—フランス C—ドイツ
 オ. A—フランス B—ドイツ C—日本
 カ. A—フランス B—日本 C—ドイツ

問 14 下線部⑪について、この時の日本の^{しゅしやう}首相の氏名を答えなさい。

問 15 下線部⑫に関連して、観光庁が^{かんこうちやう}属している省として、正しいものを次の中から 1 つ選び、記号で答えなさい。

- ア. ^{もんぶかがくしやう}文部科学省 イ. ^{けいざいさんぎやうしやう}経済産業省 ウ. ^{こくどうつうしやう}国土交通省 エ. ^{かんきやうしやう}環境省

問 16 下線部⑬について、イスラーム教の^{かいりつ}戒律に沿って加工・生産されていることの証明を何と^{かいどうらん}いいますか、解答欄に合う形でカタカナで答えなさい。

座席 番号				
受験 番号				
氏名				



222130

--

1

問1		(4)			
問2	(1)	(2)	(3)		
問3	(1)	(2)		問4	
問5		問6	(1)1	(1)2	
問6	(1)3	(1)4	(1)5	(1)6	
問6	(1)7	(1)8	(2)4番目	(2)6番目	
問7	(1)	(2)	(3)	問8	

2

問1	1	2	3	4	
問2	(1)	(2)	問3 (1)	(2)	問4
問5		問6	問7	問8	
問9		問10	問11	問12	問13
問14		問15	問16	認証	