

| | | | | | |
|----------|--|--|--|--|--|
| 受験 番号 | | | | | |
|----------|--|--|--|--|--|

2021年度 2月1日 入学試験 社会問題

社会の注意 答えはすべて解答用紙に書きなさい。

【 試験についての注意事項 】

- 机の上に出してよいものは、次の3つです。それ以外のものはカバンにしまってください。
 - ① 受験票（机の左上におきます）
 - ② えんぴつ数本（シャープペンシルも可・色ペンやマーカー、定規の使用は不可）
 - ③ 消しゴム
- 次のものを持ってきた場合は、カバンにしまってください。また、休けい時間中も使用してはいけません。
 - ① 腕時計・置き時計など（音が鳴らないようにしてください）
 - ② 携帯電話（電源を切ってください）
 - ③ 腕時計型の情報端末（Apple Watch など）※ 許可なく携帯電話・スマートフォンや腕時計型の情報端末を使用した場合、不正行為とみなすことがあります。
- 机の中には、何も入れないでください。
- チャイムが鳴ったら、次のことを記入してから始めてください。

問題用紙 → 受験番号

解答用紙 → 受験番号と氏名
- 問題についての質問は、いっさいできません。
- 気分が悪くなったら、すぐに申し出てください。
- 物を落としたら、自分でひろわず、手をあげてください。

1. 次の文章を読み、後の問いに答えなさい。

校庭や住宅の庭でよく見る木の1つに、松(以下、マツと表記)があります。お正月の門松は、新しい年の神様である歳神様に来てもらうための目印です。マツは2年ほどで落葉しますが、少しずつ新しい葉と入れ替わるので、一年を通して葉が青々として見え、縁起のよい木として大切にされてきました。マツと聞くと、三保松原や、東日本大震災の津波で1本だけ残った、岩手県陸前高田市の「奇跡の一本松」など、海岸に立つ姿を思い出す人もいますでしょう。

①松のつく名字や地名も多くあります。能の舞台の正面には大きなマツが描かれ、雪舟の水墨画や江戸時代の浮世絵「東海道五十三次」など多くの絵画にも登場します。茶道の世界で釜の湯の煮え立つ音を松風というほか、マツの梢をわたる風の音を波の音にたとえた松濤という言葉もあります。また、兼六園など日本を代表する庭園にマツは欠かせない存在であり、盆栽としても愛されてきました。マツとはどのような木で、日本人とどのようにかかわってきたのでしょうか。

③日本は火山の噴火や大雨など自然災害の多い国です。溶岩や火山灰によってできた場所、土砂崩れで土があらわになった場所に最初に生えるのは、コケ類や地衣類です。それから草が生え、ツツジやキイチゴなどの低木がやぶをつくり、次にマツなどの高木が森をつくります。マツは、明るく開けた場所であれば、薄くわずかな土の上でも、土が肥えていなくても育つことができます。海に囲まれた岩の上にも育ちます。荒地でも力強く育ち、雪の中でも緑の葉を失わないマツに、昔の人々はなみなみならぬ生命力を感じ、特別な木として扱ってきたのでしょう。

東北から九州にかけて古くから分布しているのがクロマツとアカマツです。クロマツが海岸に多いのに対し、アカマツは内陸にも広く生えています。④日本にマツが増え始めたのは、今から1400~1500年ほど前のことと考えられています。それは、これ以降の時代の地層からマツの花粉が多く出てくるようになるためです。人々は山に入り、住居や橋などの建築資材、燃料などにするため、広葉樹を伐採しました。山は荒れ、マツの好む環境となったのです。マツもまた肥料や薪、炭として利用されました。マツは松脂を多く含むため腐りにくく、杭などにも利用されてきました。⑤1914年に完成した東京駅の駅舎の地下には、駅舎を支えるために1万本ものマツの杭が埋められていました。屋外で灯した松明は「焚きマツ」が語源であるともいわれています。松脂を含むマツの薪は火力が強く、陶器や瓦を焼くために使われ、マツの炭は刃物などをつくる鍛冶屋で使われました。⑥8月に行われる京都五山の送り火にもマツは使用されています。マツの枝や葉は家庭用の燃料のほか、製塩にも利用されました。海岸は人の手が入らないと砂が堆積し、他の植物も育ちます。日本の海岸の景観を表す「白砂青松」は、長い年月の間、人々がマツを植え、砂地の松葉や枝をかきとって利用してきたからこそその風景でもあったのです。

マツが厳しい環境で生育できる理由の1つに、根に共生するキノコの仲間、菌根菌の存在があります。⑦マツタケは、アカマツの菌根菌としてよく知られています。マツタケの菌糸は土の中を伸び、集めてきたリン酸などの養分をアカマツに与えます。アカマツは糖などをマツタケに与えることで、荒地で共生してきました。アカマツとともに20年ほど育つとキノコをつくります。もう1つの理由が、針のような葉です。葉の裏表なく光合成ができ、上の葉が影をつくりにくい

ため効率よく光を利用することができます。厚い表皮は乾燥にも強く、岩山や砂地でも水分を奪われません。成長が早いマツは、街道の並木や防風林、防砂林としても利用されてきました。針のような形の葉は強風にも傷みにくく、幾重にも重なってフィルターの役割を果たし、砂を防ぐのです。

現在、日本のマツ林は数を減らしています。⑧戦争中、戦闘機の燃料をつくるために伐根や松脂の採取が命じられたこともありました。また、昭和の初め頃から広く見られるようになったマツ枯れは、戦後の研究で、北アメリカ大陸から輸入された木材とともにやってきたマツノザイセンチュウが原因であることがわかりました。さらに⑨(1) 燃料が普及するようになると、人が広葉樹を伐採したり、マツ林に入って落ち葉かきをしたりすることがなくなって土が肥え、マツにとっては育ちにくい環境になったため、広葉樹の森へと変化していったのです。昨年、国際自然保護連合が絶滅するおそれがある生き物をまとめたレッドリストに、マツタケが載りました。マツ林の減少や、土壌が肥えて他の菌類が増加したことが原因です。マツタケは、他の菌類が少ない環境でないと生きられないのです。

私たちは今、長い間⑩日本人の生活や文化を支えてきたマツとどのように付き合っていくのか、考える時期にあります。

『まるごと発見！校庭の木・野山の木③ マツの絵本』(福田健二編 一般社団法人 農山漁村文化協会 2016年) などをもとに作成

問1 下線部①に関連して、次の表は北海道松前町、長野県松本市、愛媛県松山市、島根県松江市の気温と降水量を表したものです。このうち、長野県松本市を表しているものはどれですか。ア～エのうちから、正しいものを1つ選び、記号で答えなさい。

| | 1月 | 2月 | 3月 | 4月 | 5月 | 6月 | 7月 | 8月 | 9月 | 10月 | 11月 | 12月 | 全年 |
|---|-------|-------|-------|-------|-------|-------|-------|-------|-------|-------|-------|-------|--------|
| ア | 4.3 | 4.7 | 7.6 | 12.9 | 17.5 | 21.3 | 25.3 | 26.8 | 22.6 | 16.8 | 11.6 | 6.9 | 14.9 |
| | 147.2 | 121.9 | 132.6 | 109.4 | 134.6 | 189.8 | 252.4 | 113.7 | 197.9 | 119.5 | 130.6 | 137.6 | 1787.2 |
| イ | -0.7 | -0.4 | 2.7 | 7.8 | 12.1 | 16.3 | 20.1 | 22.7 | 19.5 | 13.9 | 7.6 | 2.0 | 10.3 |
| | 103.0 | 74.4 | 68.3 | 76.4 | 98.3 | 71.5 | 134.4 | 151.4 | 147.6 | 113.6 | 124.4 | 103.8 | 1262.9 |
| ウ | 6.0 | 6.5 | 9.5 | 14.6 | 19.0 | 22.7 | 26.9 | 27.8 | 24.3 | 18.7 | 13.3 | 8.4 | 16.5 |
| | 51.9 | 65.6 | 102.3 | 107.8 | 141.5 | 223.6 | 191.6 | 89.6 | 130.3 | 96.7 | 68.0 | 46.0 | 1314.9 |
| エ | -0.4 | 0.2 | 3.9 | 10.6 | 16.0 | 19.9 | 23.6 | 24.7 | 20.0 | 13.2 | 7.4 | 2.3 | 11.8 |
| | 35.9 | 43.5 | 79.6 | 75.3 | 100.0 | 125.7 | 138.4 | 92.1 | 155.6 | 101.9 | 54.9 | 28.1 | 1031.0 |

上段は平均気温(℃)、下段は降水量(mm)。全年は年平均気温、年降水量を表す。(気象庁ウェブページより作成)

問2 下線部②の作者を答えなさい。

問3 下線部②に関連して、江戸時代、東海道と江戸の出入口に当たる場所には、治安維持の役割を果たした大木戸(門)が設けられていました。この付近に昨年、J R 山手線では49年ぶりとなる新駅が開業しました。その駅名を答えなさい。

問4 下線部③について、2013年の噴火にともなって新島が出現し、もとの島と接続した後も活発な噴火が続いている、小笠原諸島^{おがさわらしょうとう}に位置する島の名を答えなさい。

問5 下線部③について、最近の豪雨災害には、地球温暖化が影響^{えいきやう}しているといわれています。次のA～Dの文章のうち、温暖化によって起こると考えられているものは、いくつありますか。その数として適切なものを、ア～エの中から1つ選び、記号で答えなさい。

- A 農作物の収穫量^{しゅうかくりやう}が減少したり、品質が低下したりする。
 - B デング熱などの感染症^{かんせんしょう}を媒介する生物の分布域が、拡大する。
 - C 海水面の上昇^{じやうしやう}にともなって、沿岸部や低地が水没する危機にさらされる。
 - D 干ばつや熱波^{ねつぱ}が起こる。
- ア. 4つ イ. 2つ ウ. 1つ エ. 1つもない

問6 下線部④に関連して、今から1400～1500年前の出来事について述べた文章として、正しいものを次の中から1つ選び、記号で答えなさい。

- ア. 卑弥呼^{ひみこ}が中国の魏^{ちゆうごく}に使節を派遣し、皇帝^きから銅鏡^{はげん}などを与えられました。
- イ. 清少納言^{せいしょうなごん}が『枕草子^{まくらのそうし}』を、紫式部^{むらさきしきぶ}が『源氏物語^{げんじものがたり}』を書きました。
- ウ. 仏教が百濟^{へくせ}から公^{おおやけ}に伝わり、蘇我氏^{そが}によって日本で最初の本格的な寺院が造られました。
- エ. 聖武天皇^{しょうむてんのう}が造立^{ぞうりゆう}を命じた大仏^{たうだいぶつ}が東大寺^{とうだいじ}で完成し、盛大な式典^{せいだい}が行われました。

問7 下線部⑤に関連して、1914年は大正3年^{たいしやう}にあたります。次の文章の中から、大正時代の出来事として正しいものを2つ選び、記号で答えなさい。

- ア. 賠償金^{ばいしょうきん}を得られなかったポーツマス条約^{ていけつ}の締結^{ていけつ}に不満をもった人々が、日比谷^{ひびや}で交番を焼き打ちする事件が起こりました。
- イ. 関東大震災^{かんとうだいしんさい}が起こり、はげしい地震^{じしん}と火災^{ひがい}によって大きな被害^{ひがい}が出ました。混乱^{こんらん}の中で多くの朝鮮人^{ちやうせん}や中国人^{ちゆうじん}、労働運動^{らうどううんどう}の指導者^{しゆうどう}や社会主義者^{しやかいしぎしや}が殺されました。
- ウ. 板垣退助^{いたがきたいすけ}らが民選議院設立建白書^{みんせんぎいんせつりつけんぱくしょ}を政府^{せいふ}に提出し、自由民権運動^{じゆうみんけんうんどう}の口火^{くちび}を切りました。
- エ. 政府は、官営工場^{くわんえいこうじやう}としてフランスの先進技術^{せんしんぎじゆつ}を導入した富岡製糸場^{とみおかせいしじやう}を造り、各地から女性労働者^{にょせいらうどうしや}を集めました。
- オ. 軍部中心^{ぐんぶしんしん}の政権^{しやくけん}を樹立しようとする陸軍^{りくぐん}の青年将校^{しやうこう}たちが反乱^{はんらん}を起こし、首都^{しやうと}の中心部^{しんしんぶ}を占拠^{せんきよ}しましたが、失敗^{しぱい}に終わりました。
- カ. スペイン風邪^{かぜ}と呼ばれたインフルエンザ^{いんふれんざ}が流行^{りゆう}し、マスクをつけることが勧め^{すす}られました。

問8 下線部⑤に関連して、最初の本格的な政党内閣^{せいとうないかく}をつくり、1921年に東京駅^{とうきやうえき}で暗殺^{あんころく}された首相^{しゆしやう}として正しいものを、次の中から1つ選び、記号で答えなさい。

- ア. 犬養毅^{いぬかいつよし} イ. 東条英機^{とうじやうひでき} ウ. 原敬^{はらたかし} エ. 伊藤博文^{いとうひろぶみ}

問9 下線部⑥について、昨年は新型コロナウイルスの影響で五山の送り火も、火をともし火床の数を大きく減らして催されました。京都で毎年7月の1か月間、疫病退散を願って行われる大きな祭礼も、昨年は山鉾巡行などを中止しました。この祭礼として正しいものを次の中から1つ選び、記号で答えなさい。

ア. チャグチャグ馬コ イ. 祇園祭 ウ. 葵祭 エ. 阿波おどり

問10 下線部⑦について、マツタケは和食では松茸ご飯や土瓶蒸しなどに調理されます。マツタケの旬の季節として正しいものを、次の中から1つ選び、記号で答えなさい。

ア. 春 イ. 夏 ウ. 秋 エ. 冬

問11 UNESCO無形文化遺産に登録されている「和食」には、添えられた花や葉、器によっても季節が表現されるという特徴があります。これに関連して、九谷焼の産地として正しいものを次の中から1つ選び、記号で答えなさい。

ア. 石川県 イ. 群馬県 ウ. 滋賀県 エ. 京都府

問12 下線部⑧に関連して、次の表は1940年代の出来事を古い順に並べたものです。これを見て、(1)～(3)の問いに答えなさい。

| | |
|---|-----------------------------------|
| ア | 日本が真珠湾にあるアメリカ海軍の基地を攻撃する |
| イ | アメリカ軍がサイパン島を占領し、日本の各都市への空襲がはげしくなる |
| ウ | 東京大空襲 |
| エ | 長崎に原子爆弾が投下される |
| オ | 日本が()宣言を受諾し、連合国に降伏する |
| カ | |

- (1) 表中の()に当てはまる言葉を答えなさい。
- (2) 昨年7月、広島地方裁判所は、広島への原子爆弾投下後に降った、放射性物質を含む「黒い雨」を国の援護対象区域※の外で浴びた原告全員を被爆者と認める判決を言い渡しました。広島に原子爆弾が投下されたのは、表中のア～カのどの時期ですか、正しいものを1つ選び、記号で答えなさい。

※援護対象区域：広島への原子爆弾投下後、「黒い雨」がはげしく降ったとして国が指定した区域。この区域の中にいた人は、無料の健康診断が受けられ、一定の病気になれば、被爆者健康手帳が交付される。区域外ではこうした支援は受けられない。

- (3) (2)の判決に対し、国および広島県と広島市は、広島高等裁判所に裁判のやり直しを求めました。このように、第一審の判決を不服として裁判のやり直しを求めて訴えることを何といいますか。

問 13 下線部⑨は、石油や石炭、天然ガスなどを意味します。(1)に当てはまる言葉を漢字2文字で答えなさい。

問 14 下線部⑩に関連して、次の日本国憲法の条文で保障されている生存権は、どの権利に含まれていますか。正しいものを1つ選び、記号で答えなさい。

第 25 条

①すべて国民は、健康で文化的な最低限度の生活を営む権利を有する。

ア. 自由権 イ. 社会権 ウ. 平等権 エ. 基本的人権を守るための権利

問 15 生活に利用されることがなくなった松葉ですが、近年、この松葉をバイオマス燃料にかえて活用する動きも起こっています。これに関連して、次の文中の(A)～(C)に当てはまる言葉を答えなさい。ただし、(B)は、本文中に出ている言葉を用いて答えなさい。(C)はカタカナで答えなさい。

バイオマス燃料も燃焼する時に(A)を排出しますが、植物は成長する時に(B)を行って(A)を吸収しているので、その排出量はプラスマイナスゼロであるとする考えを(C)といいます。

2. 次の文章を読み、後の問いに答えなさい。

「日本の城」と聞くと、多くの人が天守閣のある立派な城を想像するかもしれませんが、日本における城は、時代ごとにその姿を変えてきました。

日本最古の築城の記録は、福岡県の大野城と、福岡県と①佐賀県の県境に位置する基肆城です。これは、ヤマト政権が（ 1 ）・新羅連合軍によって滅亡した百済からの亡命貴族らに築城を指導させたと『日本書紀』に記されています。この頃に築かれた古代山城は、朝鮮半島からの侵攻を想定し、対馬や九州北部、さらに九州と本州を隔てる（ 2 ）海峡を経て②瀬戸内地方を通り、都のあった近畿地方にかけてベルト状に設置されたと考えられています。これらの古代山城は、古代国家によって造られた軍事施設だったのです。

③鎌倉時代末から南北朝時代にかけての動乱期には、領主によって山城が築かれるようになります。これは、幕府の権威が失われ、小領主同士の抗争が激しくなったためで、その数は4万以上もありましたが、一つひとつの城の規模は小さいものでした。領主は山城には住まず、山城には戦闘時に立て籠もるための軍事基地としての機能しかありませんでした。

しかし、戦国時代になり抗争が日常化すると、戦国大名の軍事基地かつ居城としての城が各地で築かれるようになっていきます。戦国大名は、中世の領主よりも所領が広く、家臣も多くなっていました。そうすると、それまでの山城では規模が足りず、家臣を城内あるいは周囲に住まわせることができないため、広大な平野にある低い丘に城を築くのが主流となっていったのです。戦国大名は強大な経済力を背景に、石垣や堀を築き、城の防備を固めるようになりました。

天正4（1576）年には、織田信長が本格的な天主（天守の古称）を持つ城を築きます。④琵琶湖の水運を利用できることや、当時の越後国の大名である（ A ）の侵攻経路を断つことを理由に、場所を選定し築城したといわれています。大工には、熱田神宮の造営に参加した岡部又右衛門が任じられ、襖や壁の金碧障壁を⑤狩野永徳に任せるなど優秀な職人の技が結集されました。このようにして、広さ、高さ、豪華さにおいて、誰も見たことのない城が完成しました。この城について、日本を訪れた⑥宣教師ルイス・フロイスも『日本史』の中で、「（ 3 ）城はきわめて堅固で立派に見え、（中略）我々の石造建築物を見るのと何等相違がないほどであった」と記しています。豪華絢爛で立派な城は、大名自身の権力を象徴する役割もありました。

（ 3 ）城の天主は、本能寺の変で信長が殺された後、焼失しました。その後、豊臣秀吉は、⑦石山本願寺の跡地に、（ 3 ）城を凌ぐ⑧大阪城を築き、⑨豊臣政権下で活躍した大名達も次々と城を築きました。

関ヶ原の合戦後には、徳川家康による大規模な大名の配置換えが行われました。配置換えされた大名は城を築いたり改修を行ったりしましたが、豊臣政権時代の築城とは様子が異なりました。その姿から白鷺城とも呼ばれ世界遺産にもなっている（ 4 ）城も、関ヶ原の合戦後に改修されたものの1つで、この改修には、豊臣側の西国の大名が大阪城に集結するのを防ぐとともに、豪華絢爛な天守で徳川時代の到来を見せつける目的がありました。

徳川政権下では、「天下普請」の号令のもと、大名たちが城の工事を行いました。幕府は、大名たちの経済力を削ぐため、資材費や人件費をはじめとする全ての費用を彼らに負担させました。

これらの城は、徳川政権の権力を象徴する城となりました。その後、2代将軍（ B ）の時に
出された⑩一国一城令では、大名の居城以外の城の廃絶が命じられ、同年発令された武家諸法度
では、幕府の許可なく居城を修復することが禁じられました。

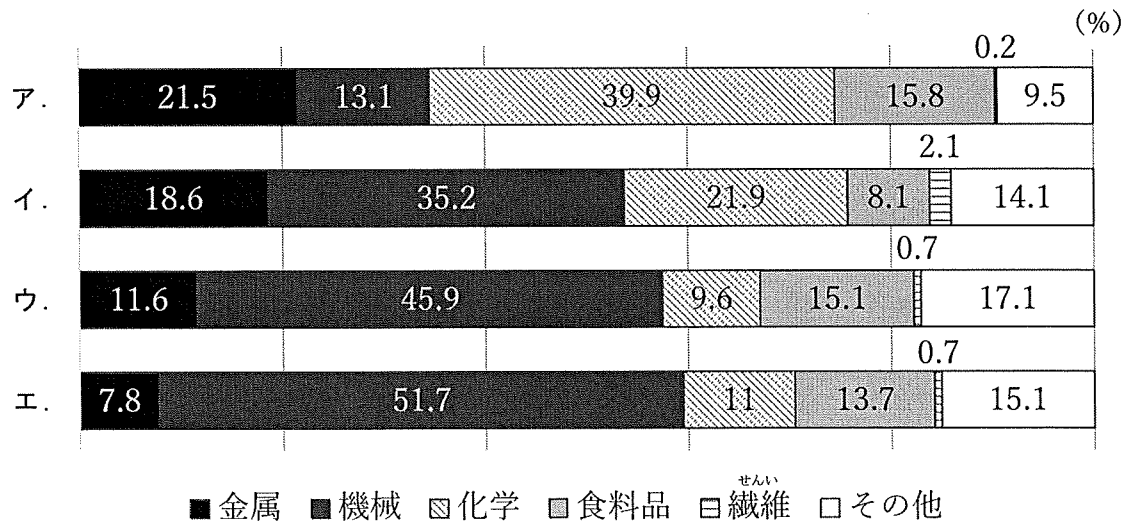
戦国時代や江戸時代に築かれた城の中には、戊辰戦争で再び戦いの舞台となったものもありま
した。明治4（1871）年には（ 5 ）が行われて、藩主が東京に移住し、明治6（1873）年に
廃城令が出されました。城の土地と建物は⑪陸軍省の所有物になったり、大蔵省に引き渡され
行政機関などに払い下げられたりしました。このように、城は時代ごとに姿を変えてきたのです。

問1 文中（ 1 ）～（ 5 ）に入る言葉を答えなさい。

問2 下線部①を説明した文章として、正しいものを次の中から1つ選び、記号で答えなさい。

- ア. 五島列島などの多くの島があることに加え、リアス海岸があるため、海岸線が長い
です。
イ. 有明海での海苔の養殖や、伝統工芸品の陶磁器の生産が盛んです。
ウ. 日清戦争の賠償金の一部を使い、県北部に官営の八幡製鉄所が建設されました。
エ. 九州地方最大の面積を誇り、畜産が盛んで、豚の飼育数は日本一です。

問3 下線部②に関連して、次のグラフは、瀬戸内工業地域、京葉工業地域、東海工業地域、関東
内陸工業地域の工業別出荷額の割合を示したものです。このうち、瀬戸内工業地域を表して
いるものはどれですか。ア～エのうちから、正しいものを1つ選び、記号で答えなさい。



（『日本国勢図会 2020/21』より作成）

問4 下線部③について、鎌倉幕府の機関とその職務の組み合わせとして誤っているものを、次の中から1つ選び、記号で答えなさい。

- ア. 問注所もんちゅうじよ - 訴訟と裁判事務そしやう
- イ. 侍所きわらいどころ - 御家人の取り締まりごけにんとし
- ウ. 政所まんどころ - 一般政務と財政いっぱんせいむ さいせい
- エ. 六波羅探題ろくはらたんたい - 年貢の取り立てや土地の管理ねんぐ

問5 下線部④に関連して、湖とその湖がある県の組み合わせとして誤っているものを、次の中から1つ選び、記号で答えなさい。

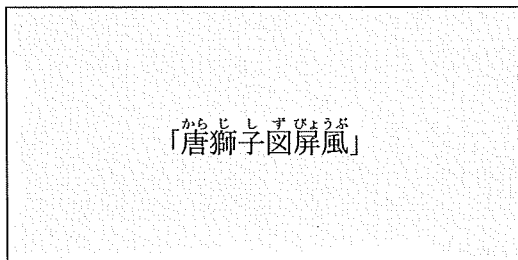
- ア. 猪苗代湖いなわしろ - 福島県ふくしま イ. 宍道湖しんじ - 島根県しまね
- ウ. 浜名湖はまな - 静岡県しずおか エ. 十和田湖とわだ - 岩手県いわて

問6 文中(A)、(B)に入る人物として正しいものを、次の中から1つずつ選び、それぞれ記号で答えなさい。


- ア. 今川義元いまがわよしもと イ. 石田三成いしだみつなり ウ. 上杉謙信うえずぎけんしん エ. 武田勝頼たけだかつより オ. 徳川秀忠とくがわひでただ
- カ. 徳川家光とくがわいえみつ キ. 徳川吉宗とくがわよしむね

問7 下線部⑤の作品を次の中から1つ選び、記号で答えなさい。


ア.




イ.



ウ.



エ.



問8 下線部⑥に関連して、次の文章は16世紀の国内のキリスト教について述べたものです。

このうち、正しいものを1つ選び、記号で答えなさい。

- ア. 織田信長は、最初はキリスト教を保護していましたが、のちに布教を禁止しました。
- イ. 豊臣秀吉は、天下統一のために仏教勢力を退ける目的で、キリスト教を保護する政治を貫きました。
- ウ. 九州のキリシタン大名によって4人の少年がローマきやうこう教皇(法王)のもとへ派遣されました。
- エ. フランシスコ・ザビエルが種子島たねがしまに漂着ひょうちやくし、その後次々と宣教師が日本を訪れました。

問9 下線部⑦は、浄土真宗^{じょうどしんしゅう}の寺院です。これに関連して、浄土真宗の開祖として正しいものを、次の中から1つ選び、記号で答えなさい。

ア. 親鸞^{しんらん} イ. 日蓮^{にちれん} ウ. 道元^{どうげん} エ. 法然^{ほうねん}

問10 下線部⑧に関連する次の文章の (i) と (ii) に入る言葉の組み合わせとして正しいものを、次の中から1つ選び、記号で答えなさい。

2015年に続き、昨年11月に2回目の「特別区制度（いわゆる大阪都構想）」の賛否を問う住民投票が実施^{じっし}されました。(i) である (ii) を廃止^{はいし}して複数の特別区を設置することについて、行われたものです。

ア. i-政令指定都市 ii-大阪府 イ. i-政令指定都市 ii-大阪市
ウ. i-経済特区 ii-大阪府 エ. i-経済特区 ii-大阪市

問11 下線部⑨に関連して、加藤清正^{かとうきよまさ}が築き、のちに西南戦争^{せいなん}の舞台ともなった城として正しいものを次の中から1つ選び、記号で答えなさい。

ア. 彦根城^{ひこね} イ. 小田原城^{おだわら} ウ. 二条城^{にじょう} エ. 熊本城^{くまもと}

問12 下線部⑩について、幕府はどのようなことを目的として、これらの法令を出したと考えますか。説明しなさい。

問13 下線部⑪に関連して、省庁に関する (1) (2) の問いに答えなさい。

(1) 現在の省庁に関する説明として、誤っているものを次の中から1つ選び、記号で答えなさい。

ア. 環境省^{かんきょう}は、公害を防ぎ、地球環境を守る仕事をしています。
イ. 経済産業省^{けいざいさんぎょう}は、税金を集め、予算案を作る仕事をしています。
ウ. 国土交通省^{こくどこうつう}は、交通の整備や気象に関する仕事をしています。
エ. 文部科学省^{もんぶかがく}は、文化、教育、スポーツに関する仕事をしています。

(2) 菅義偉^{すがよしひで}内閣^{かか}が掲げる行政改革^{いつかん}の一環として、今年新たに設置する方針となっている省庁を答えなさい。

問14 次ページの地図は、駿府城公園^{すんぶ}周辺のもので、この地図に関連して、(1)～(3)の問いに答えなさい。

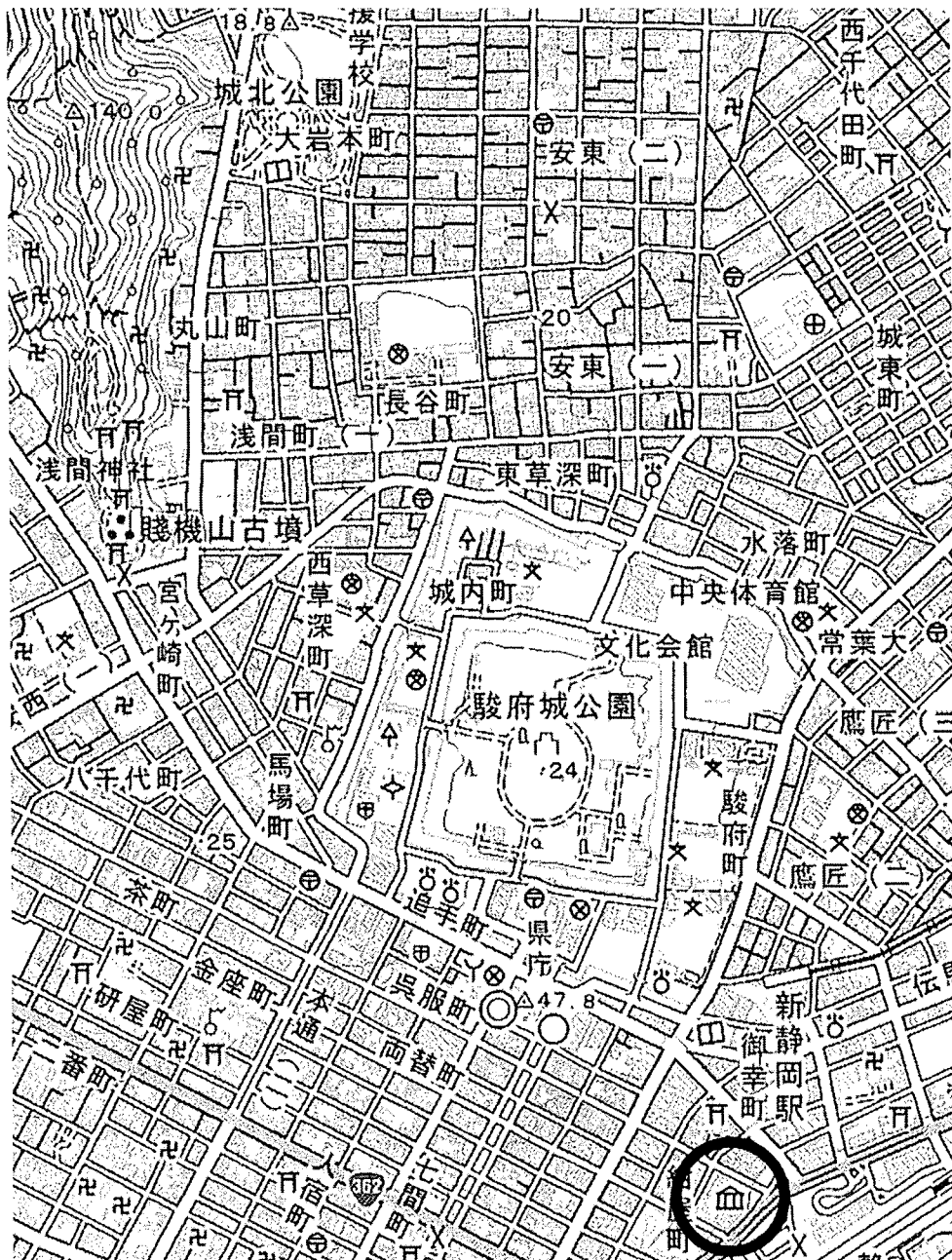
(1) 地図中の○で囲まれた地図記号は何を表すものですか。正しいものを次の中から1つ選び、記号で答えなさい。

ア. 老人ホーム イ. 宗教施設 ウ. 保健所 エ. 美術館

(2) 新静岡駅^{しんしずおか}から市役所までは、2万5千分の1の縮尺の地図では、直線で2cmあります。実際の距離^{きょり}は何kmですか。

(3) この地図には、城跡の地図記号があります。この城跡に関する説明として誤っているものを、次の中から1つ選び、記号で答えなさい。

- ア. 城跡の周囲には、現在多くの学校があります。
- イ. 城跡の北西に位置する山には、古墳や多くの寺社があります。
- ウ. 城跡の北東に税務署や裁判所などの官公署が集まっています。
- エ. 城跡の南は、かつて城下町が広がり商工業者で賑わっていたと考えられます。



国土地理院 2万5千分1地形図「静岡東部」より作成 (印刷したものは、実際の縮尺とは異なります)

| |
|----|
| 得点 |
| |

2021年度 社会科解答用紙

| | | | |
|------|--|----|--|
| 受験番号 | | 氏名 | |
|------|--|----|--|

1

| | | | | | | | |
|-----|-----|-----|-----|----|--|-----|-----|
| 問1 | | 問2 | | 問3 | | | 駅 |
| 問4 | | 問5 | | 問6 | | | |
| 問7 | | 問8 | | 問9 | | 問10 | 問11 |
| 問12 | (1) | (2) | (3) | | | | |
| 問13 | | 問14 | | | | | |
| 問15 | A | B | C | | | | |

2

| | | | |
|-----|-----|-----|-----|
| 問1 | 1 | 2 | 3 |
| | 4 | 5 | |
| 問2 | 問3 | 問4 | 問5 |
| | | | 問6 |
| | | | A |
| | | | B |
| 問7 | 問8 | 問9 | 問10 |
| | | | 問11 |
| 問12 | | | |
| 問13 | (1) | (2) | |
| 問14 | (1) | (2) | (3) |
| | | km | |